


11. CHIMPANSEES EN GORILLA'S
zijn mensapen. Ze heten zo, omdat deze apen op mensen lijken.

Wie is wie? Zet de juiste naam onder de tekening.
Wie vind jij het meest op jou lijken?

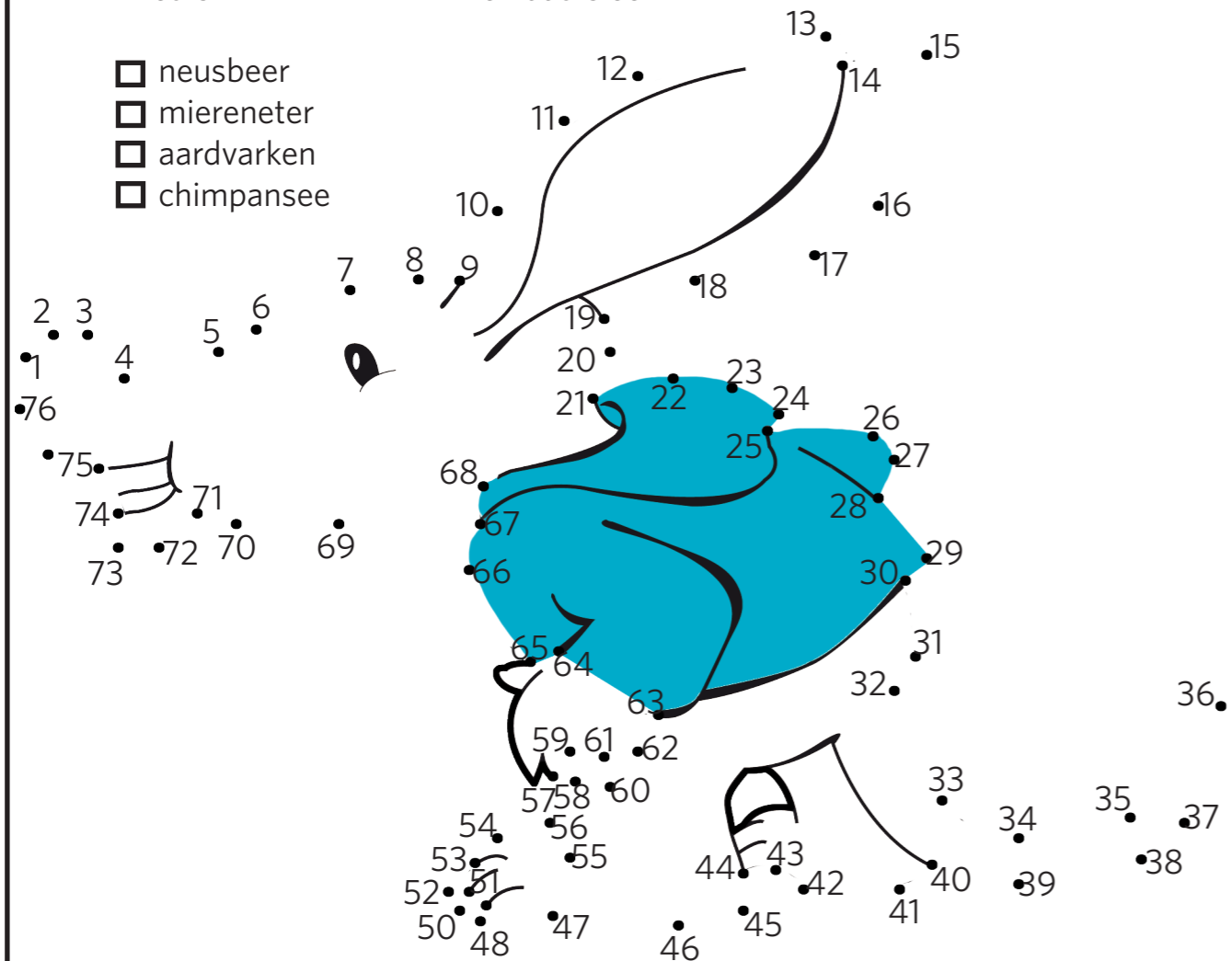
Welke oor is van de chimpansee en welke van de gorilla?
Trek een lijntje tussen de aap en het goede oor.



12. Herken je dit dier?
Trek een lijn van 1 naar 2, van 2 naar 3, van 3 naar 4 en zo door tot en met nummer 74.

Het is: en dat is een:

- neusbeer
- miereneter
- aardvarken
- chimpansee



THEMA VORMEN



voor groep 4 t/m 6

Volg in het dierenpark de wandelroutes 1 en 2, dan kom je de diersoorten, waar de vragen over gaan, in de juiste volgorde tegen.

1. Bekijk de **PINGUÏNS** goed.
Wat zit er op de huid van een pinguïn?


- haren
- veren
- schubben

Zet een kruisje bij het goede antwoord.



2. Geef deze **OLIFANT** een staart.

3. Welke staart is van de **RINGSTAARTMAKI**?




4. Teken de staart bij dit **STOKSTAARTJE**.

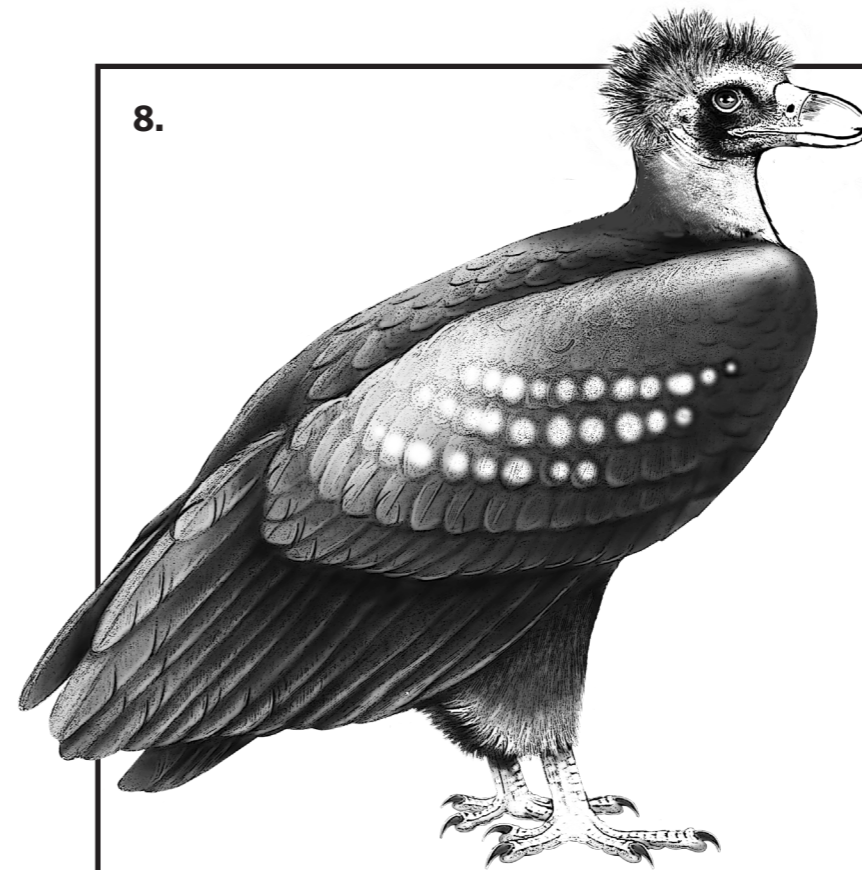


5. Een **PANTER** heeft over zijn hele lichaam vlekken.

Hoe ziet zo'n vlek er aan de zijkant van het lichaam uit?
Kruis het goede antwoord aan.



8.




Dit is een **MONNIKSGIER**.

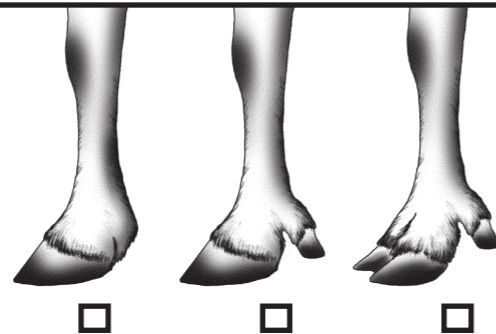
Als je goed kijkt, zie je dat de tekenaar vijf fouten heeft gemaakt.
Welke fouten kan jij vinden?

1.
2.
3.
4.
5.

6. Welke staart hoort bij deze **GOUDJAKHALS**?
Kruis het goede antwoord aan.

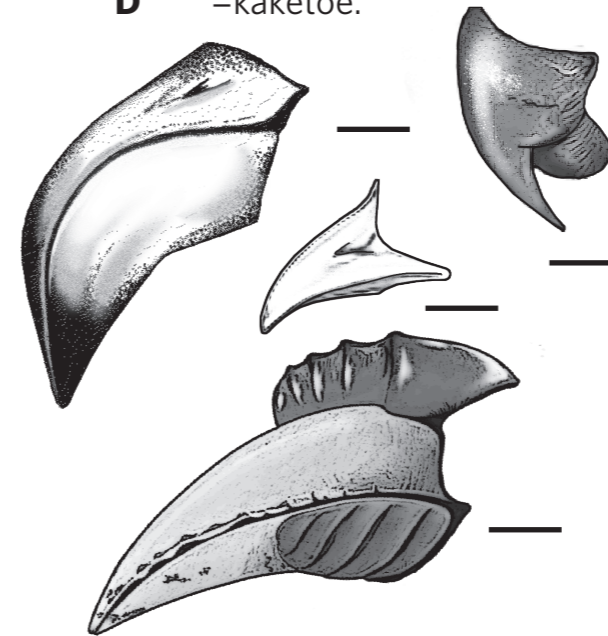


7. Welke poten zijn van het **RENDIER**?
Kruis het goede antwoord aan.

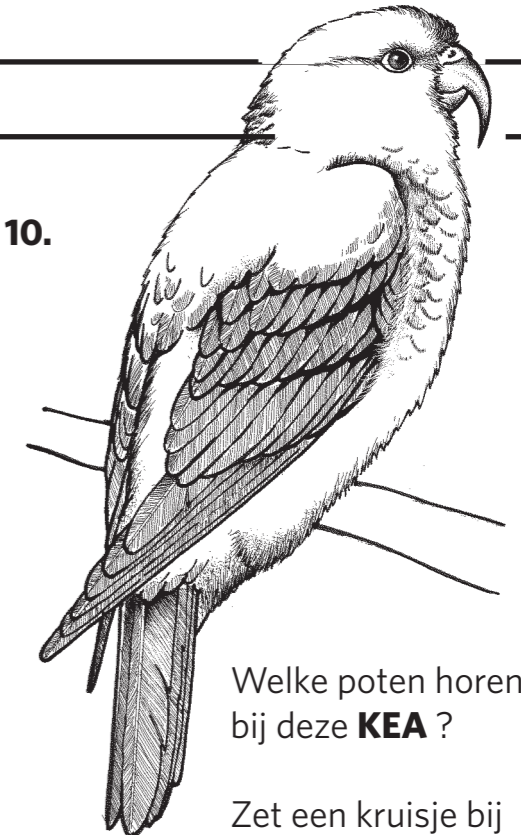


9. Van welke vogels zijn de getekende snavels?
Zet de goede letter bij alle vier de snavels.

- A** =neushoornvogel,
- B** =flamingo,
- C** =fazant,
- D** =kaketoe.

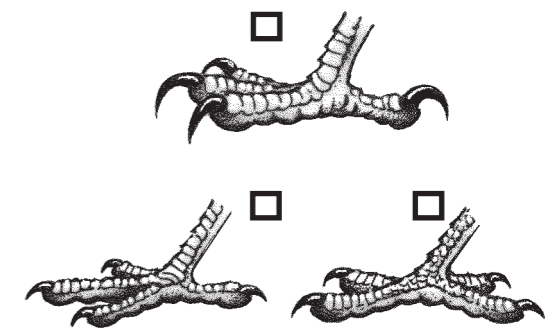


10.



Welke poten horen bij deze **KEA** ?

Zet een kruisje bij het goede antwoord.



bij speurtocht **"VORMEN"**

1. Op huid van een pinguïn zitten veren.

2. Zie tekening.

3. Zie tekening →

4. Zie tekening.

5. De vlekken op de zijkant van het lichaam zien eruit als open rozetten, zoals in de tweede tekening.

6. Zie tekening →

7. Een rendier heeft per poot twee hele brede hoeven, die zover uit elkaar gezet worden dat ook de twee bijhoeven de grond bijna raken. Zo kunnen de dieren in de sneeuw lopen, zonder erin weg te zakken. De derde tekening is goed.

8. De fouten in de tekening zijn:

1. een rechte snavel,
2. veren op de kop,
3. een kale nek,
4. vlekken op de vleugels,
5. poten met twee tenen naar achteren.

9. Zie tekening.

10. Een papegaai heeft poten met twee tenen die naar voren wijzen en twee tenen die naar achteren wijzen. Dit is te zien in de derde tekening.

11. De tekening van het linkeroor is van de chimpansee (dat is de rechter aap). De tekening van het rechteroor is van de gorilla (dat is de linker aap).

12. De nummertjes-tekening is Burgie, het aardvarken.

